

تدريب على اختبار مادة
الجغرافيا للصف الثالث
الثانوى 2021

الإشراف القضائي على العملية الانتخابية بالدولة يمثل أحد إهتمامات الجغرافيا السياسية وهو

- التنظيم الداخلى.
- العلاقات الدولية.
- المقومات الطبيعية.
- التحليل السياسى للقوة.



2021

كان للجغرافيا السياسية دور فى منع ظهور مشكلات اجتماعية بعد الحرب العالمية الأولى كما ظهر فى

- وسط أوروبا.
- جنوب آسيا.
- شمال أفريقيا.
- شرق أمريكا الجنوبية.



الموارد فى حكم العدم إن لم يستغلها الانسان.

تشير العبارة إلى أراء

- ارسطو.
- راقزل.
- كيلين.
- ابن خلدون.

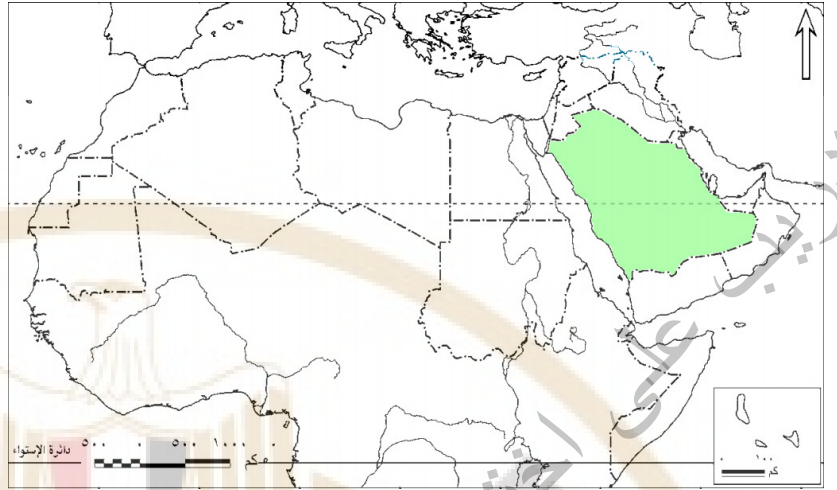




من خلال الخريطة . نستنتج:

هناك دولتان تشرفان على مسطحين مائتين بسواحل طويلة ويتشابهان فى شكل الدولة هما

- السويد وإيطاليا.
- أسبانيا والبرتغال.
- ألمانيا وبلغاريا.
- فنلنده وبولندا.



من خلال الخريطة وضح:

التطور السياسى فى المنطقة المشار إليها يتوافق مع أراء

- ابن خلدون.
- ارسطو.
- راتزل.
- كيلين.

الثالث الثانوى 2021

وزارة التربية والتعليم
والتعليم الفنى
الجمهورية العربية السورية

MINISTRY OF EDUCATION AND TECHNICAL

تتعرض سواحل نيوجرسي بالولايات المتحدة الأمريكية لعمليات تعرية بفعل الأمواج البحرية.

لمتابعة هذه التغيرات يمكن الإستعانة ب.....

- الإستشعار عن بعد.
- نظم المعلومات الجغرافية.
- وسائل الإتصالات الحديثة.
- تكنولوجيا المعلومات.



أى المناطق التالية بها مشكلات اجتماعية ذات بُعد سياسى

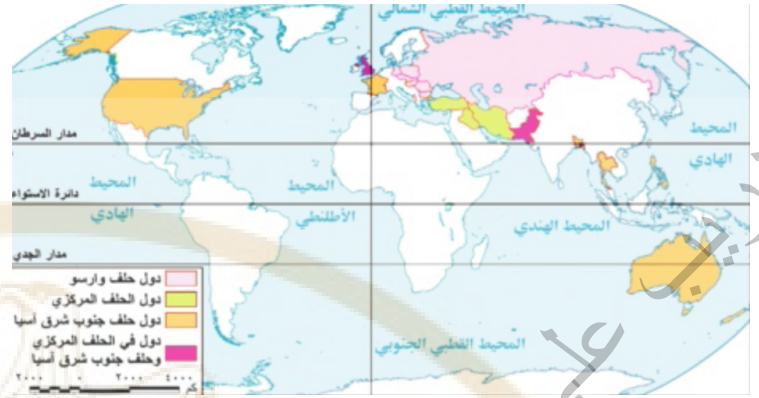
- الباسك.
- غرب أفريقيا.
- كشمير.
- مضيق صقلية.

MINISTRY OF EDUCATION

وَأَنَّ التَّحْلِيلَ التَّجْلِيْمِيَّ
وَالتَّحْلِيلَ الْفِيَّ

اختبار مادة الجغرافيا للصف الثالث الثانوى

الثالث الثانوى 2021



دولة أسيوية كانت عضو في حلفين عسكريين بالعالم القديم.....

- باكستان.
- العراق.
- ايران.
- بريطانيا.



تتأثر العلاقات الخارجية لدولتي بوتسوانا ولسوتو بعلاقاتهما بدولة

- جنوب أفريقيا.
- ناميبيا.
- موزمبيق.
- زيمبابوي.

منطقتين مائيتين خاضعتين لسيادة واحدة يفصلهما

- خط الساحل.
- الخط البحري.
- المياه المحايدة.
- المياه الملاصقة.



الدولة التي تمتد سيادتها خارج حدودها الفلكية

- المغرب
- بتسوانا
- افغانستان
- منغوليا



أحد العوامل الطبيعية التي أثرت إيجابياً على الولايات المتحدة الأمريكية وسلباً على روسيا

- المناخ.
- التضاريس.
- المساحة.
- الموارد الطبيعية.



" المجرى الأدنى لنهر الدانوب حد سياسى بين بلغاريا ورومانيا ويوغسلافيا سابقاً - وجزء منه يفصل بين تشيكوسلوفاكيا سابقاً والمجر "

فى ضوء تلك العبارة استنتج

أى الأنهار يشبهه نهر الدانوب

• نهر الراين

• نهر السين

• نهر المسيسيبي

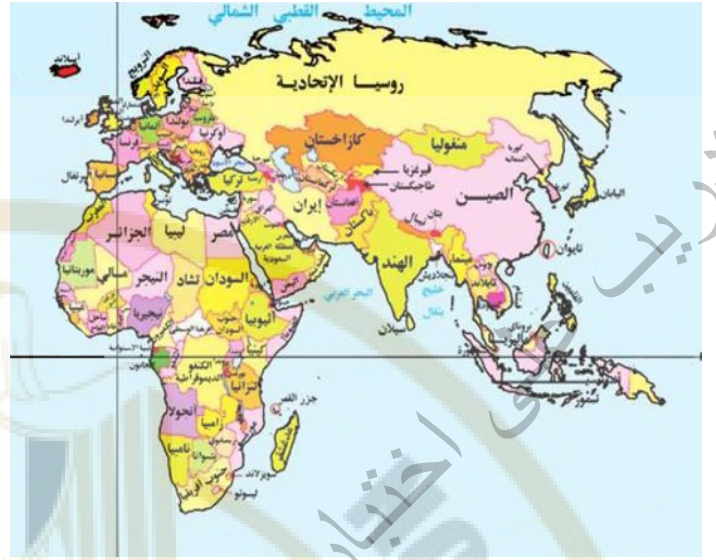
• نهر النيل.



منطقة معترف بها تضم مجموعة من البشر يستخدم قوتها لإدارة موارد المجتمع

- الدولة.
- الأمة.
- المنظمة.
- الأقلية.





بالاستعانة بالخريطة المقابلة استنتج.

أقصى شرق اسيا واقصى غرب أوروبا توجد دول متشابهة فى الشكل

- البحرى المجرأ.
- المندمج ذو بروز.
- الشريطى العرضى.
- المندمج.

الثالث الثانوى 2021

دولة تفتقد عاصمتها للحماية والدفاع وتبعد عن حدها الشمالي ٧١٢ كم وحدها الجنوبي ٥٠٠ كم وتبعد عن حدها الشرقي ٢٠٢ كم.

فى ضوء تلك العبارة نستنتج ان.

هذه الدولة ذات شكل

- شريطى طولى.
- مندمج.
- مندمج ذات بروز.
- شريطى عرضى.



أى المناطق الآتية تزداد أهميتها بفضل الظهير الساحلى

- سواحل مصر الشمالية.
- سواحل مصر الشرقية.
- سواحل السعودية الغربية.
- سواحل السودان الشرقية.

MINISTRY OF EDUCATION

مادة الجغرافيا للصف الثالث الثانوى
وَأَذِى التَّرْبِيَةِ التَّعَالِيمِيَّةِ
وَالتَّعَالِيمِيَّةِ الْفَنِيَّةِ

الثالث الثانوى

2021

TECHNICAL EDUCATION

بدراسة العواصم التاريخية نستنتج أنها

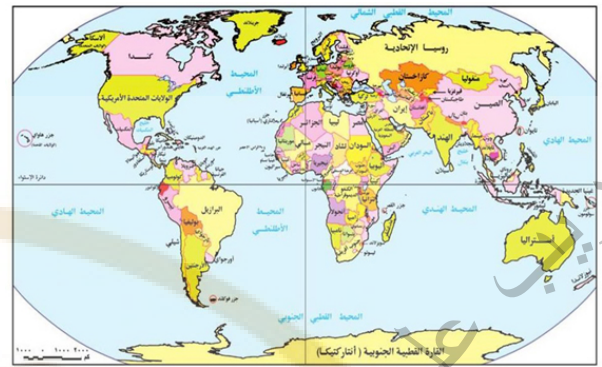
- مدن داخلية.
- مدن ساحلية.
- خالية من الحكومات.
- خالية من المؤسسات المالية.



أى الدول التالية تدخل فى نزاعات مع كل دول العالم بسبب موقعها.

- بيرو.
- النمسا.
- اوغندا.
- كازاخستان.





من خلال الخريطة وضح:

تختفى الحدود الجبلية من قارة

- أمريكا الشمالية.
- أمريكا الجنوبية.
- أوروبا.
- آسيا.



يظهر الأثر السلبي للتقنيات الحديثة على أى وظائف الحدود السياسية التالية

- الوظيفة السياسية.
- الوظيفة الاقتصادية.
- الفصل بين الدول.
- الوظيفة القانونية.



وجهت الأمم المتحدة لحل مشكلة سبته ومليلة لأحد طرق حل النزاعات وهى

- المفاوضات.
- التحكيم.
- المساعى الحميدة.
- التوفيق.



تتعرض العديد من الدول الساحلية لخطر الأعاصير وتعد أقلها ضرراً دولة.....

- استراليا.
- اليابان.
- كوريا الجنوبية.
- سلطنة عمان.



2021 الثاني الثالث

المدن التي تم بها توقيع ميثاق الأمم المتحدة وحلف الناتو تنتمي لدول

- اتحاد فيدرالى.
- كونفيدرالية.
- وحدوية.
- برلمانية.



منطقة تختفي منها مشكلات الرعاة قبل منتصف القرن ال ٢٠.....

- شرق استراليا
- غرب النيجر
- جنوب السودان
- غرب نيجيريا



تتمتع شبه الجزيرة العربية بوجود قلب دينى إلا أنها تعاني من عدم تجانس ديموجرافى بسبب

- الهجرة الغير شرعية والرسمية.
- الهجرات القسرية والمغادرة.
- الهجرات القسرية والوافدة.
- الهجرات الرسمية والقسرية.





من خلال الخريطة التي أمامك وضع

يجاور السودان ٧ دول افريقية ، وهى بذلك تتشابه مع دولة

• النيجر.

• جنوب السودان.

• موريتانيا.

• أنجولا

الأقلية التي أثارَت مشكلة سياسية وتقع جنوب خط الأستواء هي

- تيمور.
- الباسك.
- كتالونيا.
- النمساوية.



إذا أصبح بحر قزوين والبحر الأسود دول فإن شكلهما على الترتيب أقرب إلى دولتي،.....

- السويد ومنغوليا.
- تركيا وشيلي.
- منغوليا وإيطاليا.
- شيلي وإيطاليا.

MINISTRY OF EDUCATION

وَأَنَّ التَّحْلِيلَ التَّجْلِيْمِيَّ
وَالتَّحْلِيلَ الْفِيَّ

اختبار مادة الجغرافيا للصف الثالث الثانوى

2021

الثالث الثانوى

أثر تحرك السكان فى البرتغال على نشأة حدودها

- الشمالية والشرقية.
- الشمالية والغربية.
- الجنوبية والشرقية.
- الجنوبية والغربية.



2021 الثانوى الثالث

اختبار مادة الجغرافيا للصف الثالث

تفتقر بعض الدول إلى التطور التكنولوجي بسبب

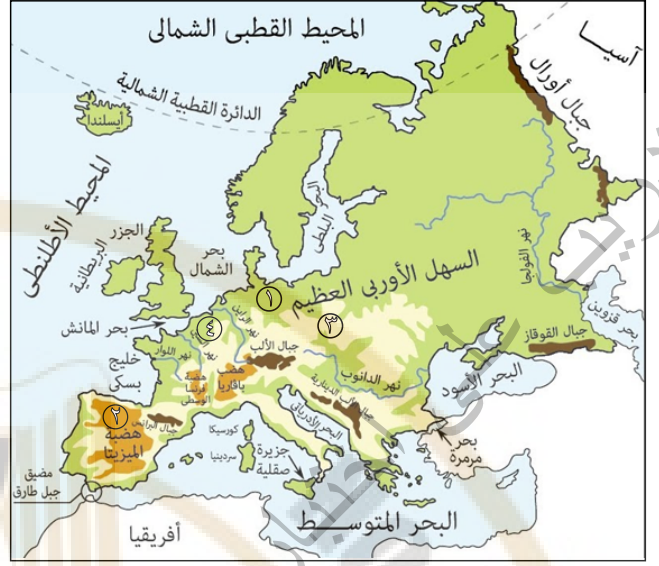
- قلة الدعم المادي.
- قلة ظهور المبدعين.
- الهجرة الداخلية.
- الهجرة الغير شرعية.

MINISTRY OF EDUCATION

وَأَنَّ التَّحْلِيلَ التَّجْلِيْمِيَّ
وَالتَّحْلِيلَ الْفِيَّ

اختبار مادة الجغرافيا للصف الثالث الثانوى

الثالث الثانوى 2021



من خلال الخريطة التي أمامك وضع:

أى المناطق التالية يصعب أن يتحقق بها الامتزاج الثقافى بسبب مظاهر السطح وهى

- (٢) •
- (٣) •
- (٤) •
- (١) •

الثالث الثانوى 2021

وزارة التربية والتعليم
والتعليم الفنى

MINISTRY OF EDUCATION AND TECHNICAL EDUCATION



الصورة التى أمامك تمثل إحدى السلطات التى تميز نظام الحكم الديمقراطى وهى.....

- السلطة التشريعية.
- السلطة المحلية.
- السلطة القضائية.
- السلطة التنفيذية.

أى مما يلى يعبر عن مفهوم النظام السياسى فى صورته المؤسسية.....

- وضع الموازنة العامة.
- استثمار المناطق الصحراوية.
- إقامة مشروعات اقتصادية.
- التنمية البشرية الشاملة.



ترتبط العملية الانتخابية بتحقيق نوع من التوازن بين الدوائر الانتخابية والناحية

- الديموجرافية.
- الأثنوغرافية.
- العسكرية.
- الاقتصادية.



التجمع الاقتصادي الذي يضم أكبر عدد من القوة الديموجرافية هو

- أبيك.
- الكوميسا.
- الاتحاد الأوربي.
- اتحاد المغرب العربي.



عقد مؤتمر السكان العالمي في مصر ١٩٩٤ لمناقشة تأثير الزيادة السكانية على الجوانب الاقتصادية بالعالم

في ضوء العبارة وضح

الهيئة التابعة للإتحاد الأوروبي وشاركت في المؤتمر هي

- المفوضية الأوروبية.
- المجلس الأوروبي.
- البرلمان الأوروبي.
- مجلس الإتحاد الأوروبي.

MINISTRY OF EDUCATION

مادة الجغرافيا للصف الثالث الثانوى
 وزارة التربية والتعليم
 والتعليق الفنى

TECHNICAL EDUCATION

الثالث الثانوى 2021

تفرض الصين واستراليا كدول من تكتل الأبيك مبالغ محددة على القطن المصرى وهما بذلك حققا مرحلة

- الاتحاد الجمركى.
- الوحدة الاقتصادية.
- الاندماج الاقتصادى.
- السوق المشتركة.



أحد العوامل مساعد على سرعة إندماج ألمانيا الشرقية والغربية هي

- التجانس الثقافي.
- التباين الأيدولوجي.
- التباين الثقافي.
- التشابه الأيدولوجي.



تصنف الأقليات التي ظهرت بعد انتهاء الصراع الأيدلوجى بأنها أقلية.....

- قومية.
- لغوية.
- عرقية.
- دينية.



ارتبط ظهور الأقليات فى شمال آسيا

- تفكك دول.
- اتحاد دول.
- حركة السكان.
- تفرقة عنصرية.



كان للجغرافيا السياسية دور فى حل بعض المشكلات المرتبطة بالوقود الحفرى فى بعض التكتلات الإقتصادية
مثل.....

• إتحاد المغرب العربى.

• الكوميكون.

• الناфта.

• الأبيك.



" تتعدد العوامل التى أثرت على تغير الحدود فى العالم "

فى ضوء تلك العبارة وضح

العامل الذى أدى إلى وضع الحدود فى إفريقيا هو

- القوى الخارجية.
- العامل الطبيعي.
- العامل الديمجرافى.
- العامل الاقتصادى.

MINISTRY OF EDUCATION AND TECHNICAL EDUCATION

وزارة التربية والتعليم
والتعليم التقنى
جمهورية مصر العربية

مادة الجغرافيا للصف الثالث الثانوى

الثالث الثانوى 2021

شهدت منطقة البحر الأديراتى تحولات كبرى فى نهاية القرن الـ ٢٠م صاحبت

- ظهور القطب الأوحـد.
- نشأة حلف وارسو.
- ازدهار دور دول عدم الانحياز.
- ظهور حلف الناتو.

MINISTRY OF EDUCATION AND TECHNICAL EDUCATION

وَأَكْرِمُ التَّالِمِينَ التَّعَالِمِينَ
وَالتَّعَالِمِينَ الفِي

الثالث الثانوى 2021



مادة الجغرافيا للصف

اختبار

بالرغم من خصائص الجبال المميزة إلا إن بعضها يمثل نقاط ضعف فى بعض الدول وهى

- كردستان.
- عسير.
- الحجاز.
- أطلس.



2021 الثانوى

تدخلت الأمم المتحدة بوقف إطلاق النار لحل احدى المشكلات السياسية مما أدى إلى ظهور حدود هدنة كما فى قارة

- آسيا.
- أمريكا الشمالية.
- أمريكا الجنوبية.
- أوروبا.

MINISTRY OF EDUCATION



وَأَنَّ التَّحْلِيلَ التَّجْلِيْمِيَّ
وَالتَّحْلِيلَ الفِيَّ التَّجْلِيْمِيَّ

اختبار مادة الجغرافيا للصف الثالث الثانوى

الثالث الثانوى 2021

" سمحت العراق للاكراد بالتحدث بلغتهم الخاصة بهم "

في ضوء هذه العبارة

أى شروط كوينهاجن تتفق مع ذلك

- السياسية.
- الاقتصادية.
- التشريعية.
- العسكرية.

MINISTRY OF EDUCATION

وَأَذِي التَّوْبَةِ التَّعَالِيمِ
وَالتَّعَالِيمِ الفِي

EDUCATION AND TECHNICAL

الثالث الثانوى 2021

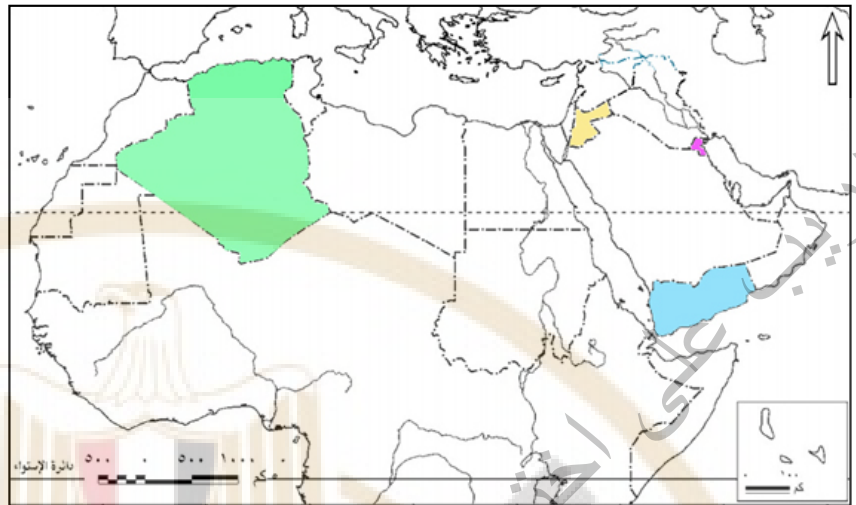
مادة الجغرافيا للصف

اختبار

يحدث تقارب ثقافى فى الفترات الأخيرة بين دول العالم نتيجة ل.....

- البعثات الدبلوماسية.
- الهجرات العائدة.
- الهجرات الغير شرعية.
- الهجرات الإجبارية.





من خلال الخريطة وضح.

دولة كانت سبب في ظهور مفهوم النظام العالمى.....

- الكويت.
- الجزائر.
- اليمن.
- الاردن.

الثالث الثانوى 2021

دولة الفاتيكان في ايطاليا تشبه دولة

- ليسوتو.
- مدغشقر.
- سويسرا.
- النيجر.

